

Тренировочная работа №1 по МАТЕМАТИКЕ**11 класс**

25 сентября 2019 года

Вариант МА1910104

Ответом к каждому заданию является конечная десятичная дробь, целое число или последовательность цифр. Запишите ответы к заданиям в поле ответа в тексте работы.

Выполнена: ФИО _____ класс _____

Инструкция по выполнению работы

Работа по математике включает в себя 20 заданий.

На выполнение работы отводится 3 часа (180 минут).

Ответы к заданиям записываются в виде числа или последовательности цифр в поле ответа в тексте работы.

При выполнении заданий можно пользоваться черновиком. Записи в черновике не учитываются при оценивании работы. Баллы, полученные Вами за выполненные задания, суммируются. Постарайтесь выполнить как можно больше заданий и набрать наибольшее количество баллов.

Желаем успеха!

1 Найдите значение выражения $48 \cdot \left(\frac{19}{48} - \frac{11}{24} - \frac{7}{12} \right)$.

Ответ: _____.

2 Найдите значение выражения $\frac{(9^{-3})^2}{9^{-8}}$.

Ответ: _____.

3 Число больных гриппом в школе уменьшилось за месяц в два раза. На сколько процентов уменьшилось число больных гриппом?

Ответ: _____.

4 Ускорение тела (в м/с^2) при равномерном движении по окружности можно вычислить по формуле $a = \omega^2 R$, где ω — угловая скорость вращения (в с^{-1}), а R — радиус окружности (в метрах). Пользуясь этой формулой, найдите a (в м/с^2), если $R = 7$ м и $\omega = 5 \text{ с}^{-1}$.

Ответ: _____.

5 Найдите $\cos \alpha$, если $\sin \alpha = -\frac{\sqrt{91}}{10}$ и $270^\circ < \alpha < 360^\circ$.

Ответ: _____.

6 Таксист за месяц проехал 11 000 км. Цена бензина — 49 рублей за литр. Средний расход бензина на 100 км составляет 7 литров. Сколько рублей потратил таксист на бензин за этот месяц?

Ответ: _____.

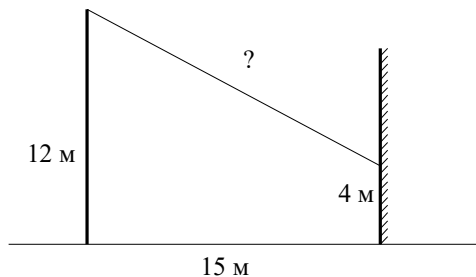
7

Решите уравнение $\sqrt{10-x} = 3$.

Ответ: _____.

8

От столба высотой 12 м к дому натянут провод, который крепится на высоте 4 м от земли (см. рисунок). Расстояние от дома до столба 15 м. Найдите длину провода. Ответ дайте в метрах.



Ответ: _____.

9

Установите соответствие между величинами и их возможными значениями: к каждому элементу первого столбца подберите соответствующий элемент из второго столбца.

ВЕЛИЧИНЫ

- А) площадь трёхкомнатной квартиры
- Б) площадь футбольного поля
- В) площадь территории России
- Г) площадь купюры достоинством 100 рублей

ЗНАЧЕНИЯ

- 1) 7000 кв. м
- 2) 100 кв. м
- 3) 97,5 кв. см
- 4) 17,1 млн кв. км

В таблице под каждой буквой, соответствующей величине, укажите номер её возможного значения.

Ответ:

А	Б	В	Г

10

Вероятность того, что батарейка бракованная, равна 0,2. Покупатель в магазине выбирает случайную упаковку, в которой две такие батарейки. Найдите вероятность того, что обе батарейки окажутся неисправными.

Ответ: _____.

11

Результаты соревнований по метанию молота представлены в таблице.

Спортсмен	Результат попытки, м					
	I	II	III	IV	V	VI
Ванин	52	53	52,5	51,5	50,5	51
Авдиенко	50	50,5	52	49,5	50	52
Касаткин	51	50	51,5	49,5	49	50
Никонов	50	53,5	54	51,5	52,5	54,5

Места распределяются по результату лучшей попытки каждого спортсмена: чем дальше он метнул молот, тем лучше.

Каков результат лучшей попытки (в метрах) спортсмена, занявшего третье место?

Ответ: _____.

12

Расписание поездов Москва–Рязань и стоимость билетов представлены в таблице.

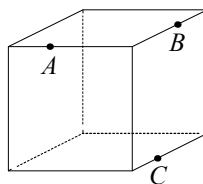
Номер поезда	Время отправления	Время прибытия	Стоимость билета (руб.)
1	14:08	17:10	357
2	14:18	17:21	714
3	14:28	17:28	357
4	15:20	17:41	536
5	15:27	18:25	666
6	15:35	18:31	714
7	16:10	19:32	357

Игорю Викторовичу нужно доехать в Рязань из Москвы поездом. При этом ему необходимо приехать в Рязань не раньше 18:00, в пути провести не более 3 часов и потратить на билет не больше 700 рублей.

В ответе укажите какой-нибудь один номер подходящего поезда.

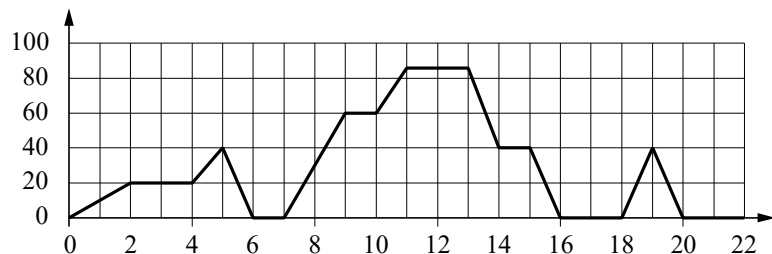
Ответ: _____.

- 13 Плоскость, проходящая через точки A , B и C (см. рисунок), разбивает куб на два многогранника. Сколько вершин у получившегося многогранника с бóльшим числом граней?



Ответ: _____.

- 14 На графике изображена зависимость скорости движения рейсового автобуса от времени. На вертикальной оси отмечена скорость автобуса в км/ч, на горизонтальной — время в минутах, прошедшее с начала движения автобуса.



Пользуясь графиком, поставьте в соответствие каждому интервалу времени характеристику движения автобуса на этом интервале.

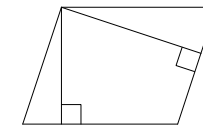
ИНТЕРВАЛЫ ВРЕМЕНИ	ХАРАКТЕРИСТИКИ
А) 4–8 мин.	1) Автобус не увеличивал скорость на всём интервале.
Б) 8–12 мин.	2) Автобус ни разу не сбрасывал скорость.
В) 12–16 мин.	3) Автобус сделал остановку длительностью 2 минуты.
Г) 16–20 мин.	4) Автобус сделал остановку длительностью ровно 1 минута.

В таблице под каждой буквой укажите соответствующий номер.

Ответ:

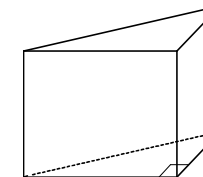
А	Б	В	Г

- 15 Стороны параллелограмма равны 10 и 30. Высота, опущенная на меньшую сторону, равна 18. Найдите высоту, опущенную на бóльшую сторону параллелограмма.



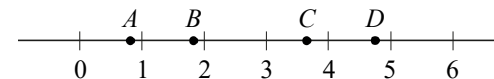
Ответ: _____.

- 16 В основании прямой призмы лежит прямоугольный треугольник, катеты которого равны 3 и 16. Найдите объём призмы, если её высота равна 3.



Ответ: _____.

- 17 На координатной прямой отмечены точки A , B , C и D .



Каждой точке соответствует одно из чисел в правом столбце. Установите соответствие между указанными точками и числами.

ТОЧКИ	ЧИСЛА
A	1) $\sqrt{5} + \sqrt{2}$
B	2) $3\sqrt{5} : \sqrt{2}$
C	3) $\sqrt{5} - \sqrt{2}$
D	4) $(\sqrt{2})^3 - 1$

В таблице для каждой точки укажите номер соответствующего числа.

Ответ:

A	B	C	D

18 Перед волейбольным турниром измерили рост игроков волейбольной команды города N. Оказалось, что рост каждого из волейболистов этой команды больше 190 см и меньше 210 см. Выберите утверждения, которые верны при указанных условиях.

- 1) В волейбольной команде города N обязательно есть игрок, рост которого равен 220 см.
- 2) В волейбольной команде города N нет игроков с ростом 189 см.
- 3) Рост любого волейболиста этой команды меньше 210 см.
- 4) Разница в росте любых двух игроков волейбольной команды города N составляет более 20 см.

В ответе запишите номера выбранных утверждений без пробелов, запятых и других дополнительных символов.

Ответ: _____.

19 Вычеркните в числе 48725459 три цифры так, чтобы получившееся число делилось на 15. В ответе укажите какое-нибудь одно получившееся число.

Ответ: _____.

20 На кольцевой дороге расположено четыре бензоколонки: А, Б, В и Г. Расстояние между А и Б — 40 км, между А и В — 25 км, между В и Г — 25 км, между Г и А — 30 км (все расстояния измеряются вдоль кольцевой дороги по кратчайшей дуге).

Найдите расстояние (в километрах) между Б и В.

Ответ: _____.

**Ответы на варианты СтатГрад МА1910101-1910108
от 25.09.2019**

	1910101	1910102	1910103	1910104	1910105	1910106	1910107	1910108
1	0	- 1	3	- 31	1,4	2	2,1	1,5
2	36	4	9	81	4	80	24	12
3	95	90	75	50	256	459	572	648
4	72	196	180	175	20	16	8	17
5	- 0,25	0,75	0,25	0,3	- 10	5	18	8
6	21120	32900	41400	37730	36	36	32,4	36
7	4	8	- 5	1	2	1	4	2
8	9	15	12	17	12	10,5	14	8
9	2431	4231	4231	2143	2314	3214	1342	4132
10	0,0025	0,0225	0,16	0,04	0,02	0,04	0,04	0,03
11	52	55	52	52	300	220	480	280
12	5	3	7	5	2	1	0	1
13	9	6	6	10	72	96	64	60
14	4312	4123	1423	4213	3142	1324	3412	4213
15	12	16,5	6	6	52	38	84	100
16	110	130	70	72	88	162	90	80
17	2431	3241	2314	3412	3214	1324	1243	3142
18	23	23	14	23	13	23	23	14
19	30294 30954	57840 59640 96780 96840	51630 54630 74130 74160 75630	48255 82545 87255	154 187 275 451 517 528 572 715 748 781 825 847	240 280 640 680	264 286 462 682	120 240 360 480 760 840 920
20	10	5	15	15	16	13	15	27