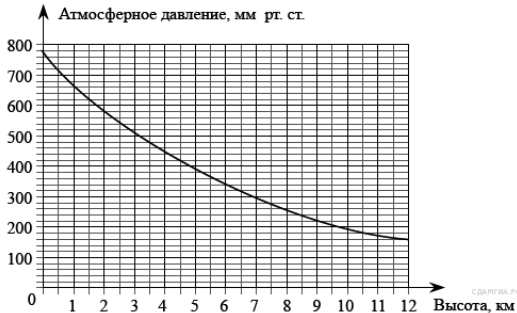


Задания В15. Анализ диаграмм, таблиц, графиков

1. На графике изображена зависимость атмосферного давления (в миллиметрах ртутного столба) от высоты над уровнем моря (в километрах). На какой высоте (в км) летит воздушный шар, если барометр, находящийся в корзине шара, показывает давление 540 миллиметров ртутного столба?



2. На рисунке изображён график изменения атмосферного давления в городе Энске за три дня. По горизонтали указаны дни недели, по вертикали — значения атмосферного давления в миллиметрах ртутного столба. Укажите наименьшее значение атмосферного давления во вторник.



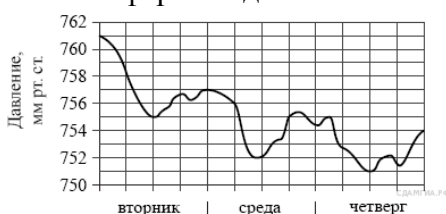
ник.

3. На рисунке изображён график изменения атмосферного давления в городе Энске за три дня. По горизонтали указаны дни недели, по вертикали — значения атмосферного давления в миллиметрах ртутного столба. Укажите наибольшее значение атмосферного давления во вторник.



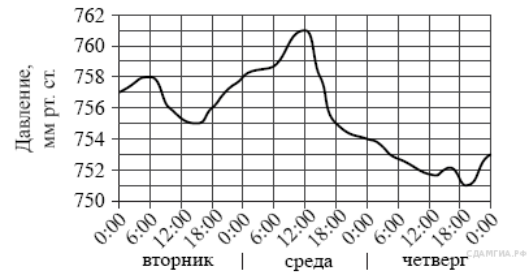
ник.

4. На рисунке изображён график изменения атмосферного давления в городе Энске за три дня. По горизонтали указаны дни недели, по вертикали — значения атмосферного давления в миллиметрах ртутного столба. Укажите наименьшее значение атмосферного давления в



среду.

5. На рисунке изображён график изменения атмосферного давления в городе Энске за три дня. По горизонтали указаны дни недели и время, по вертикали — значения атмосферного давления в миллиметрах ртутного столба. Укажите значение атмосферного давления во вторник в 6 часов



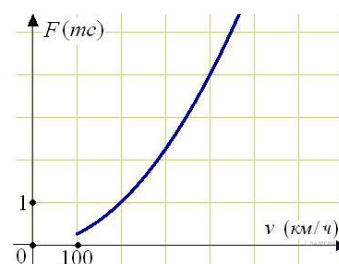
утра.

6. На рисунке изображён график изменения атмосферного давления в городе Энске за три дня. По горизонтали указаны дни недели, по вертикали — значения атмосферного давления в миллиметрах ртутного столба. Укажите наибольшее значение атмосферного давления во втор-



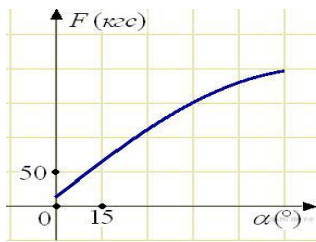
ник.

7. Когда самолет находится в горизонтальном полете, подъемная сила, действующая на крылья, зависит только от скорости. На рисунке изображена эта зависимость для некоторого самолета. На оси абсцисс откладывается скорость (в километрах в час), на оси ординат — сила (в тоннах силы). Определите по рисунку, чему равна подъемная сила (в тоннах силы) при скорости 200 км/ч?

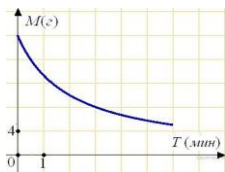


8. В аэропорту чемоданы пассажиров поднимают в зал выдачи багажа по транспортерной ленте. При проектировании транспортера необходимо учитывать допустимую силу натяжения ленты транспортера. На рисунке изображена зависимость натяжения ленты от угла наклона транспортера к горизонту при расчетной нагрузке. На оси абсцисс откладывается угол подъема в градусах, на оси ординат — сила натяжения транспортерной ленты (в килограммах силы).

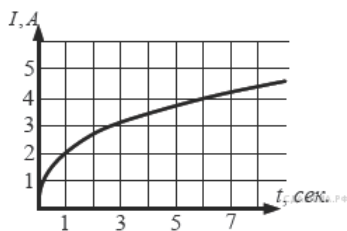
При каком угле наклона сила натяжения достигает 150 кгс? Ответ дайте в градусах.



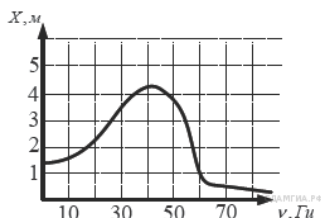
9. В ходе химической реакции количество исходного вещества (реагента), которое еще не вступило в реакцию, со временем постепенно уменьшается. На рисунке эта зависимость представлена графиком. На оси абсцисс откладывается время в минутах, прошедшее с момента начала реакции, на оси ординат — масса оставшегося реагента, который еще не вступил в реакцию (в граммах). Определите по графику, сколько граммов реагента вступило в реакцию за три минуты?



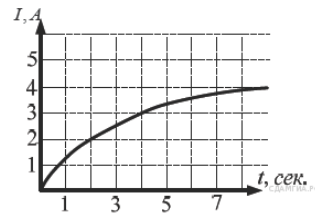
11. На рисунке изображен график изменения силы тока при подключении цепи, содержащей реостат, к источнику тока. По вертикальной оси откладывается сила тока I (в А), по горизонтальной — время t (в сек). По рисунку определите силу тока через 6 секунд с момента подключения данной цепи.



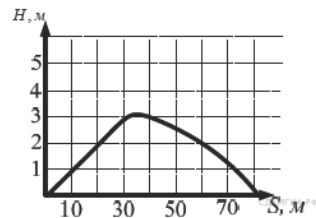
12. На рисунке изображен график зависимости амплитуды вынужденных колебаний от частоты колебаний. По вертикальной оси откладывается амплитуда (в м), по горизонтальной — частота колебаний (в Гц). По рисунку определите частоту колебаний, если амплитуда была равна 1 м.



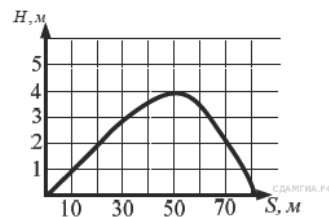
13. На рисунке изображен график изменения силы тока при подключении цепи, содержащей реостат, к источнику тока. По вертикальной оси откладывается сила тока I (в А), по горизонтальной — время t (в сек). По рисунку определите силу тока через 4 секунды с момента подключения данной цепи.



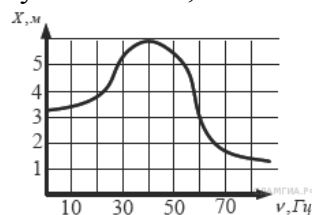
14. На рисунке изображен график полета тела, брошенного под углом к горизонту. По вертикальной оси откладывается расстояние от земли (в м), по горизонтальной оси — пройденный путь (в м). По рисунку определите, на какой высоте будет находиться тело в момент времени, когда оно пролетит 60 метров.



15. На рисунке изображен график полета тела, брошенного под углом к горизонту. По вертикальной оси откладывается расстояние от земли (в м), по горизонтальной оси — пройденный путь (в м). По рисунку определите, на какой высоте от земли будет находиться тело в момент времени, когда оно пролетит 20 метров.

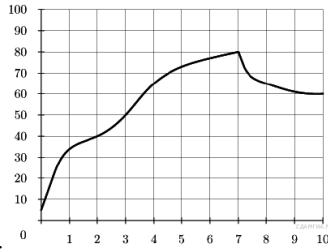


16. На рисунке изображен график зависимости амплитуды вынужденных колебаний от частоты колебаний. По вертикальной оси откладывается амплитуда (в м), по горизонтальной — частота колебаний (в Гц). По рисунку определите частоту колебаний, если амплитуда была равна 3 м.

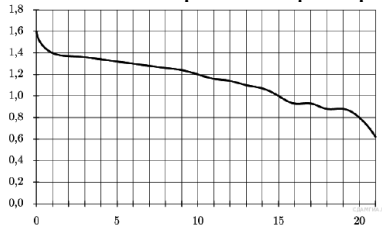


17. На графике показан процесс разогрева двигателя легкового автомобиля. На оси абсцисс откладывается время в минутах, прошедшее от запуска двигателя, на оси ординат — температура

двигателя в градусах Цельсия. Определите по графику, сколько минут двигатель нагревался до температуры 50°C с момента запуска двигателя.



18. При работе фонарика батарейка постепенно разряжается, и напряжение в электрической цепи фонарика падает. На рисунке показана зависимость напряжения в цепи от времени работы фонарика. На горизонтальной оси отмечается время работы фонарика в часах, на вертикальной оси — напряжение в вольтах. Определите по рисунку, на сколько вольт упадет напряжение за 15 часов работы фонарика.

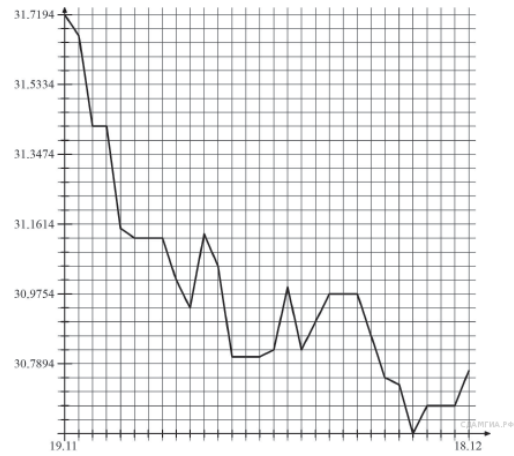


19. На графике изображена зависимость атмосферного давления (в миллиметрах ртутного столба) от высоты над уровнем моря (в километрах).

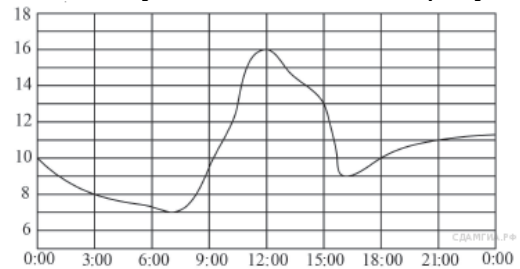


20. На графике представлена динамика изменения курса доллара США в рублю за период с 19 ноября по 19 декабря. По горизонтальной оси отложены даты, по вертикальной — значения доллара США. Шаг по вертикальной оси равен $0,0372$ руб. Определите по графику, каким был

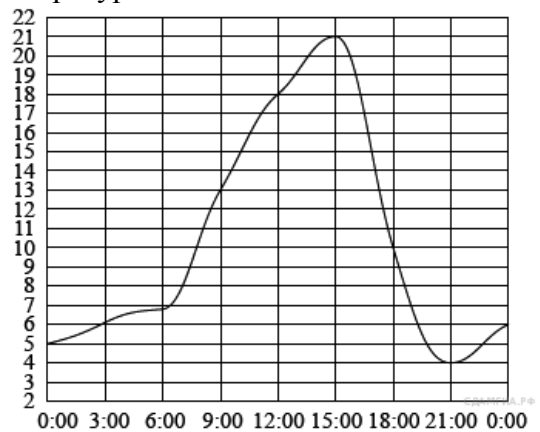
курс доллара США к рублю 21 ноября.



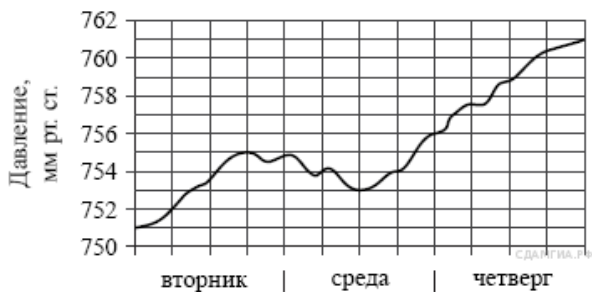
21. На рисунке показано, как изменялась температура воздуха на протяжении одних суток. По горизонтали указано время суток, по вертикали — значение температуры в градусах Цельсия. Найдите разность между наибольшим и наименьшим значением температуры в первой половине этих суток. Ответ дайте в градусах Цельсия.



22. На рисунке показано, как изменялась температура воздуха на протяжении одних суток. По горизонтали указано время суток, по вертикали — значение температуры в градусах Цельсия. Найдите разность между наибольшим значением температуры и наимень-



23. На рисунке изображён график изменения атмосферного давления в городе Энске за три дня. По горизонтали указаны дни недели, по вертикали — значения атмосферного давления в миллиметрах ртутного столба. Укажите наименьшее значение атмосферного давления во вторник.



25. В 11 № 311508. В таблице приведены результаты двух полуфинальных забегов на дистанцию 60 м. В финальном забеге 6 участников. Из каждого полуфинала в финал выходят два спортсмена, показавших первый и второй результаты. К ним добавляют еще двух спортсменов, показавших лучшее время среди всех остальных участников полуфиналов.

Номер спортсмена	Полуфинал 1				Полуфинал 2			
	1	2	3	4	5	6	7	8
Время, с	7,05	7,06	7,11	6,92	7,04	6,97	6,94	7,01
Место в забеге								

Запишите в ответе номера спортсменов, не попавших в финал.

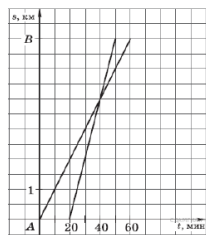
26. Платеж за потребление электроэнергии осуществляется по двухтарифному счетчику. Тариф зависит от времени суток. Общая сумма платежа складывается из сумм по каждому из двух тарифов. Квитанция на оплату содержит следующую таблицу.

Тарифная зона	Показания счетчика		Расход факт.	Тариф (р.)	Сумма к оплате (р.)
	Текущее	Предыдущее			
день (Т1)	9632	9546		3,80	
ночь (Т2)	6231	5937		0,95	

цу.

Вычислите общую сумму платежа за указанный в таблице расход электроэнергии.

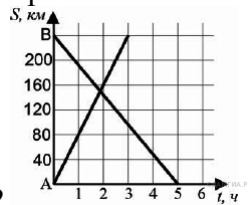
28. Из пункта A в пункт B вышел пешеход, и через некоторое время вслед за ним выехал велосипедист. На рисунке изображены графики движения пешехода и велосипедиста. На сколько минут меньше затратил на путь из A в B вело-



сипедист, чем пешеход?

29. На рисунке изображен график движения автомобиля из пункта A в пункт B и автобуса из пункта B в пункт A . На сколько километров в

час скорость автомобиля больше скорости авто-

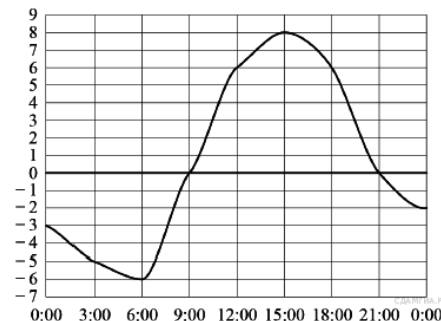


буса?

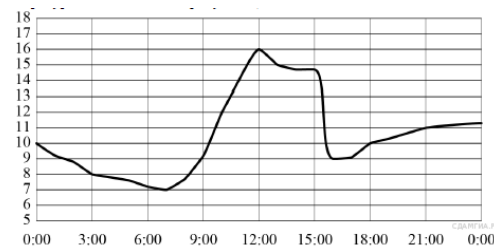
30. На графике изображена зависимость атмосферного давления (в миллиметрах ртутного столба) от высоты над уровнем моря (в километрах). На какой высоте (в км) летит воздушный шар, если барометр, находящийся в корзине шара, показывает давление 540 миллиметров ртутного столба?



31. На рисунке показано, как изменялась температура воздуха на протяжении одних суток. По горизонтали указано время суток, по вертикали — значение температуры в градусах Цельсия. Найдите наибольшее значение температуры. Ответ дайте в градусах Цельсия.



32. На рисунке показано, как изменялась температура воздуха на протяжении одних суток. По горизонтали указано время суток, по вертикали — значение температуры в градусах Цельсия. Найдите наименьшее значение температуры. Ответ дайте в градусах Цельсия.

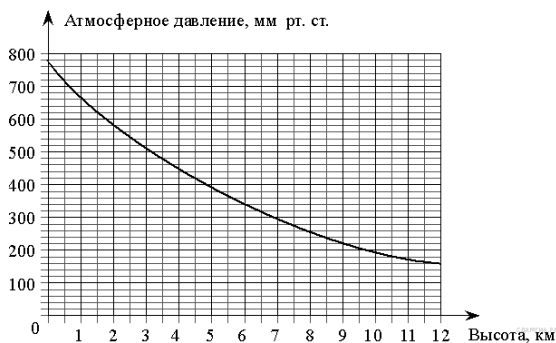


34. На рисунке изображен график изменения атмосферного давления в городе Энске за три дня. По горизонтали указаны дни недели и время, по

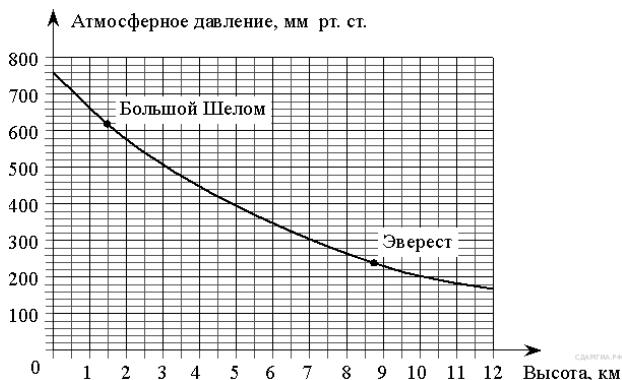
вертикали — значения атмосферного давления в миллиметрах ртутного столба. Укажите значение атмосферного давления во вторник в 18 часов.



35. На графике изображена зависимость атмосферного давления (в миллиметрах ртутного столба) от высоты над уровнем моря (в километрах). На какой высоте (в км) летит воздушный шар, если барометр, находящийся в корзине шара, показывает давление 220 миллиметров ртутного столба?



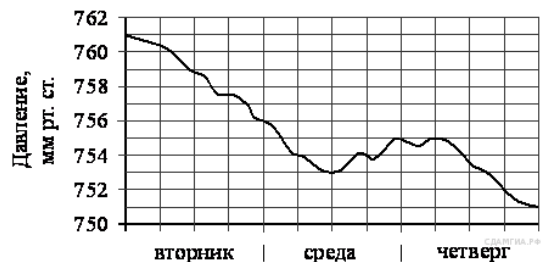
36. На графике изображена зависимость атмосферного давления (в миллиметрах ртутного столба) от высоты местности над уровнем моря (в километрах). На сколько миллиметров ртутного столба атмосферное давление на высоте Эвереста ниже атмосферного давления на высоте Большого Шелома?



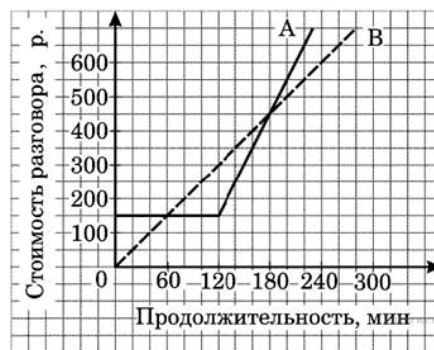
37. На рисунке изображён график изменения атмосферного давления в городе Энске за три дня. По горизонтали указаны дни недели, по вертикали — значения атмосферного давления в миллиметрах ртутного столба. Укажите наименьшее значение атмосферного давления во вторник.



38. На рисунке изображён график изменения атмосферного давления в городе Энске за три дня. По горизонтали указаны дни недели, по вертикали — значения атмосферного давления в миллиметрах ртутного столба. Укажите наименьшее значение атмосферного давления в среду.

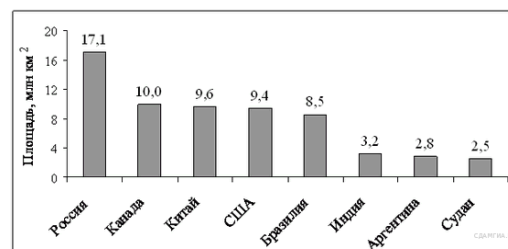


39. Компания предлагает на выбор два разных тарифа для оплаты телефонных разговоров: тариф А и тариф В. Для каждого тарифа зависимость стоимости разговора от его продолжительности изображена графически. На сколько минут хватит 550 р., если используется тариф В?

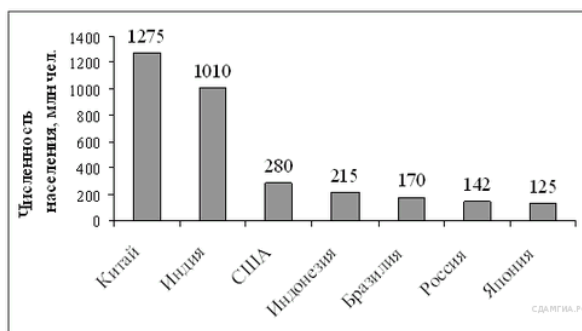


42. На диаграмме представлены некоторые из крупнейших по площади территории стран мира.

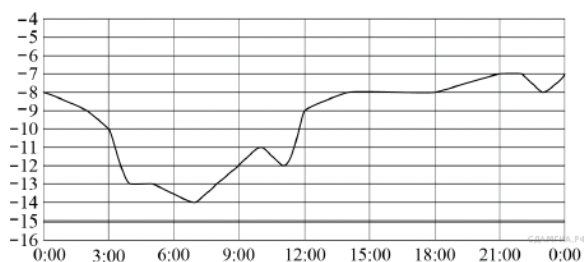
Во сколько примерно раз площадь США больше площади Судана? (Ответ округлите до целых.)



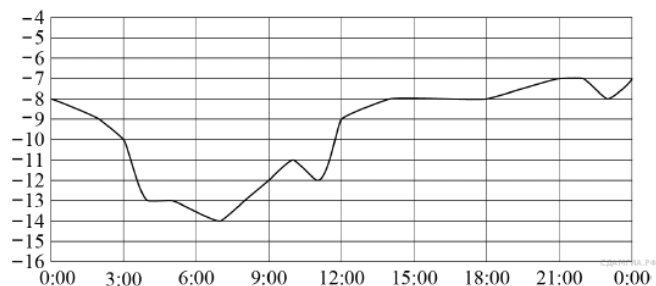
43. На диаграмме представлены некоторые из крупнейших по численности населения стран мира. Численность населения какого государства примерно в 6 раз меньше численности населения Китая? В ответе напишите численность населения этого государства в млн чел.



44. На рисунке показано, как изменялась температура воздуха на протяжении одних суток. По горизонтали указано время суток, по вертикали — значение температуры в градусах Цельсия. Найдите наименьшее значение температуры. Ответ дайте в градусах Цельсия.

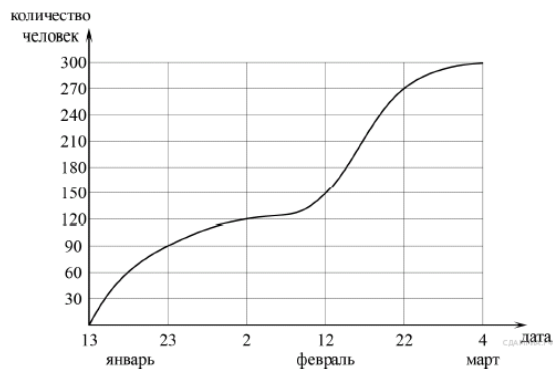


45. На рисунке показано, как изменялась температура воздуха на протяжении одних суток. По горизонтали указано время суток, по вертикали — значение температуры в градусах Цельсия. Найдите наибольшее значение температуры. Ответ дайте в градусах Цельсия.



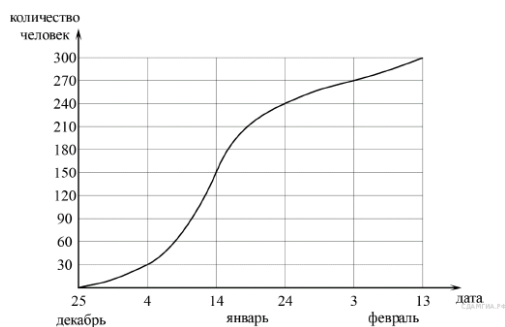
46. На графике показано, сколько человек зарегистрировалось с 13 января по 4 марта 2013 года

в качестве участников конференции. По горизонтали указаны числа месяцев, а по вертикали — количество человек.



Во сколько раз возросло количество зарегистрировавшихся с 23 января по 22 февраля?

47. На графике показано, сколько человек зарегистрировалось с 25 декабря 2012 года по 13 февраля 2013 года в качестве участников конференции. По горизонтали указаны числа месяцев, а по вертикали — количество человек.



Во сколько раз возросло количество зарегистрировавшихся с 4 января по 3 февраля?