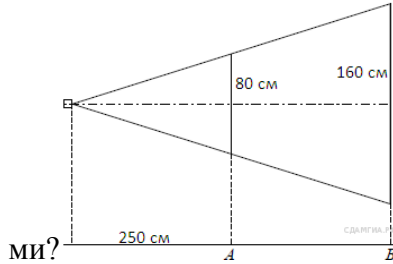
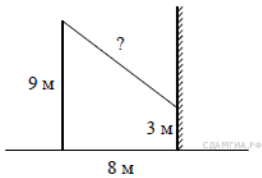


Задания 17. Практические задачи по геометрии

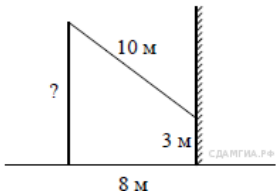
1.. Проектор полностью освещает экран A высотой 80 см, расположенный на расстоянии 250 см от проектора. На каком наименьшем расстоянии (в сантиметрах) от проектора нужно расположить экран B высотой 160 см, чтобы он был полностью освещён, если настройки проектора остаются неизменны-



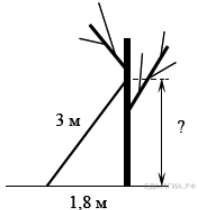
2. От столба высотой 9 м к дому натянут провод, который крепится на высоте 3 м от земли (см. рисунок). Расстояние от дома до столба 8 м. Вычислите длину провода.



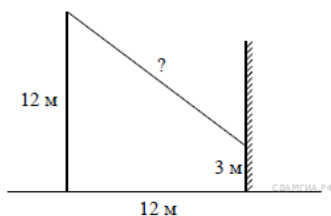
3. От столба к дому натянут провод длиной 10 м, который закреплен на стене дома на высоте 3 м от земли (см. рисунок). Вычислите высоту столба, если расстояние от дома до столба равно 8 м.



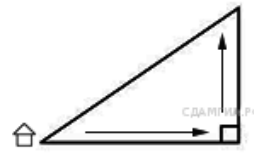
4. Лестницу длиной 3 м прислонили к дереву. На какой высоте (в метрах) находится верхний её конец, если нижний конец отстоит от ствола дерева на 1,8 м?



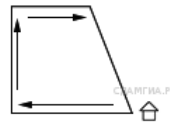
5. От столба высотой 12 м к дому натянут провод, который крепится на высоте 3 м от земли (см. рисунок). Расстояние от дома до столба 12 м. Вычислите длину провода.



6. Мальчик прошел от дома по направлению на восток 800 м. Затем повернул на север и прошел 600 м. На каком расстоянии (в метрах) от дома оказался мальчик?



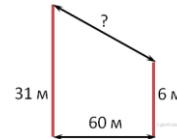
7. Девочка прошла от дома по направлению на запад 500 м. Затем повернула на север и прошла 300 м. После этого она повернула на восток и прошла еще 100 м. На каком расстоянии (в метрах) от дома оказалась девочка?



8.. Мальчик и девочка, расставшись на перекрестке, пошли по взаимно перпендикулярным дорогам, мальчик со скоростью 4 км/ч, девочка — 3 км/ч. Какое расстояние (в километрах) будет между ними через 30 минут?

9. Два парохода вышли из порта, следуя один на север, другой на запад. Скорости их равны соответственно 15 км/ч и 20 км/ч. Какое расстояние (в километрах) будет между ними через 2 часа?

10. В 60 м одна от другой растут две сосны. Высота одной 31 м, а другой — 6 м. Найдите расстояние (в метрах) между их верхушками.



11. Колесо имеет 18 спиц. Найдите величину угла (в градусах), который образуют две соседние спицы.

12. Сколько спиц в колесе, если угол между соседними спицами равен 18° ?

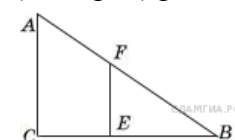
13. Какой угол (в градусах) образуют минутная и часовая стрелки часов в 5 ч?

14. Какой угол (в градусах) описывает минутная стрелка за 10 мин?

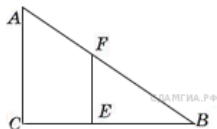
15. Какой угол (в градусах) описывает часовая стрелка за 20 мин?

16. На какой угол (в градусах) поворачивается минутная стрелка пока часовая проходит 2° ?

17. Человек ростом 1,7 м стоит на расстоянии 8 шагов от столба, на котором висит фонарь. Тень человека равна четырем шагам. На какой высоте (в метрах) расположен фонарь?



18. Человек ростом 1,8 м стоит на расстоянии 12 м от столба, на котором висит фонарь на высоте 5,4 м. Найдите длину тени человека в метрах.

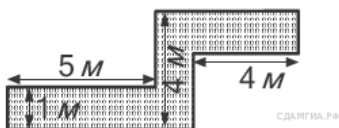


19. Площадь прямоугольного земельного участка равна 9 га, ширина участка равна 150 м. Найдите длину этого участка в метрах.

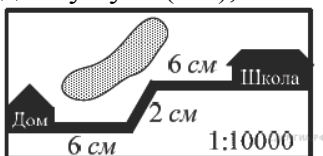
20. Найдите периметр прямоугольного участка земли, площадь которого равна 800 м^2 и одна сторона в 2 раза больше другой. Ответ дайте в метрах.

21. Сколько досок длиной 3,5 м, шириной 20 см и толщиной 20 мм выйдет из четырехугольной балки длиной 105 дм, имеющей в сечении прямоугольник размером $30 \text{ см} \times 40 \text{ см}$?

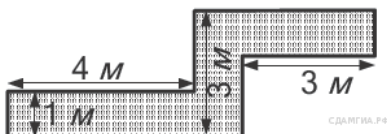
22.. Определите, сколько необходимо закупить пленки (в м^2) для гидроизоляции садовой дорожки, изображенной на рисунке, если её ширина везде одинакова.



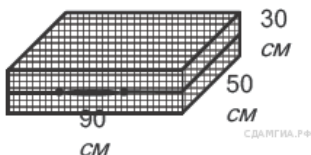
23. На карте показан путь Лены от дома до школы. Лена измерила длину каждого участка и подписала его. Используя рисунок, определите длину пути (в м), если масштаб $1 \text{ см} : 10\,000 \text{ см}$.



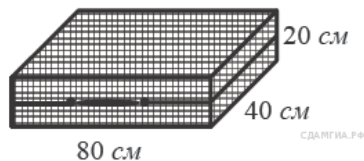
24. Определите, сколько необходимо закупить пленки (в м^2) для гидроизоляции садовой дорожки, изображенной на рисунке, если её ширина везде одинакова.



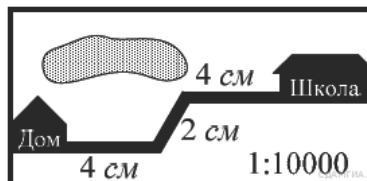
25. Дизайнер Павел получил заказ на декорирование чемодана цветной бумагой. По рисунку определите, сколько бумаги (в см^2) необходимо закупить Павлу, чтобы оклеить всю внешнюю поверхность чемодана, если каждую грань он будет обклеивать отдельно (без загибов).



26. Дизайнер Алина получила заказ на декорирование чемодана цветной бумагой. По рисунку определите, сколько бумаги (в см^2) необходимо закупить Алине, чтобы оклеить всю внешнюю поверхность чемодана, если каждую грань она будет обклеивать отдельно (без загибов).



27. На карте показан путь Лены от дома до школы. Лена измерила длину каждого участка и подписала его. Используя рисунок, определите, длину пути (в м), если масштаб $1 \text{ см} : 10000 \text{ см}$.



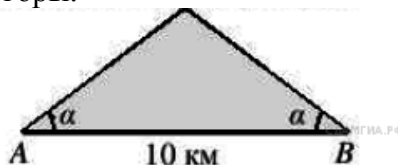
28. Какой угол (в градусах) образуют минутная и часовая стрелки, когда часы показывают ровно 4 часа?

29. Колесо имеет 5 спиц. Углы между соседними спицами равны. Найдите величину угла (в градусах), который образуют две соседние спицы.

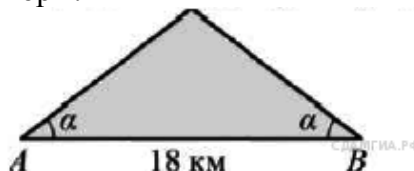
30. Сколько всего осей симметрии имеет фигура, изображённая на рисунке?



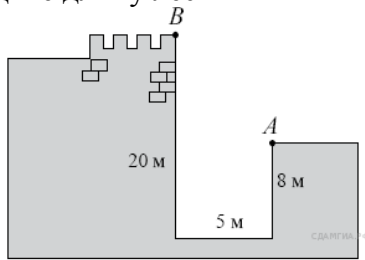
31. Склоны горы образуют с горизонтом угол α , косинус которого равен 0,8. Расстояние по карте между точками A и B равно 10 км. Определите длину пути между этими точками через вершину горы.



32. Склоны горы образуют с горизонтом угол α , косинус которого равен 0,9. Расстояние по карте между точками A и B равно 18 км. Определите длину пути между этими точками через вершину горы.

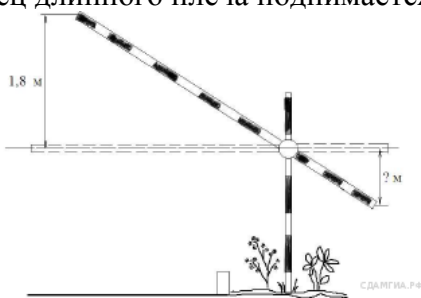


33. Глубина крепостного рва равна 8 м, ширина 5 м, а высота крепостной стены от ее основания 20 м. Длина лестницы, по которой можно взобраться на стену, на 2 м больше, чем расстояние от края рва до верхней точки стены (см. рис.). Найдите длину лестницы.



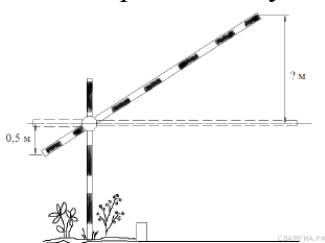
цы.

34. Короткое плечо шлагбаума имеет длину 1 м, а длинное плечо – 3 м. На какую высоту (в метрах) опустится конец короткого плеча, когда конец длинного плеча поднимается на 1,8

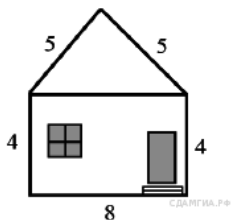


м?

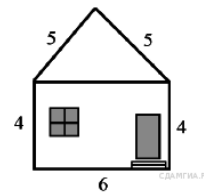
35. Короткое плечо шлагбаума имеет длину 1 м, а длинное плечо – 4 м. На какую высоту (в метрах) поднимается конец длинного плеча, когда конец короткого опускается на 0,5 м?



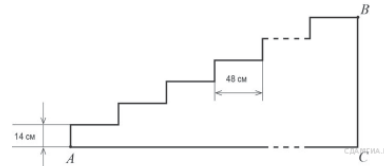
36. Определите высоту дома, ширина фасада которого равна 8 м, высота от фундамента до крыши равна 4 м, а длина ската крыши равна 5 м.



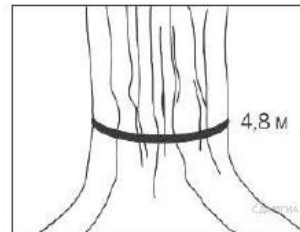
37. Определите высоту дома, ширина фасада которого равна 6 м, высота от фундамента до крыши равна 4 м, а длина ската крыши равна 5 м.



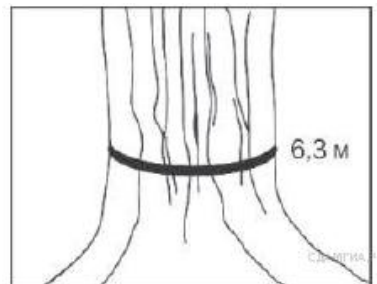
38. Лестница соединяет точки A и B , расстояние между которыми равно 25 м. Высота каждой ступени равна 14 см, а длина — 48 см. Найдите высоту BC (в метрах), на которую поднимается лестница



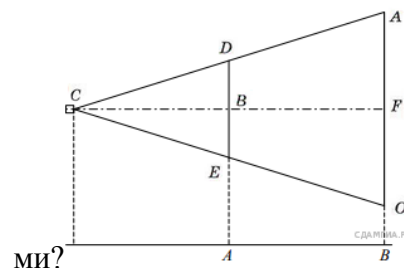
39. Обхват ствола секвойи равен 4,8 м. Чему равен его диаметр (в метрах)? Ответ округлите до десятых.



40. Обхват ствола секвойи равен 6,3 м. Чему равен его диаметр (в метрах)? Ответ округлите до целого.




41. Проектор полностью освещает экран A высотой 80 см, расположенный на расстоянии 250 см от проектора. На каком наименьшем расстоянии (в сантиметрах) от проектора нужно расположить экран B высотой 160 см, чтобы он был полностью освещён, если настройки проектора остаются неизменными-



42. Мальчик прошёл от дома по направлению на восток 550 м. Затем повернул на север и

прошёл 480 м. На каком расстоянии (в метрах)

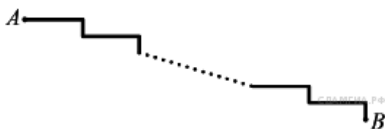


от дома оказался мальчик?

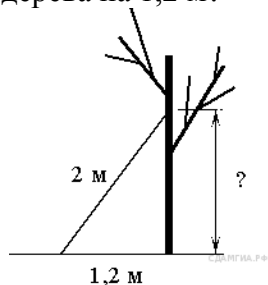
43. Девочка прошла от дома по направлению на запад 20 м. Затем повернула на север и прошла 800 м. После этого она повернула на восток и прошла ещё 200 м. На каком расстоянии (в метрах) от дома оказалась девочка?

44. Глубина бассейна составляет 2 метра, ширина — 10 метров, а длина — 25 метров. Найдите суммарную площадь боковых стен и дна бассейна (в квадратных метрах).

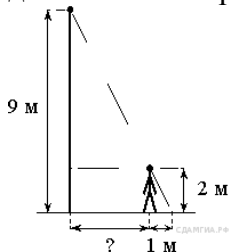
45. Лестница соединяет точки A и B и состоит из 35 ступеней. Высота каждой ступени равна 14 см, а длина — 48 см. Найдите расстояние между точками A и B (в метрах).



46. Лестницу длиной 2 м прислонили к дереву. На какой высоте (в метрах) находится верхний её конец, если нижний конец отстоит от ствола дерева на 1,2 м?

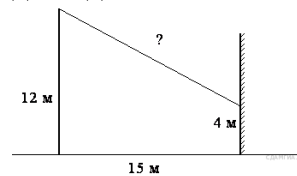


47. В 13 № 314820. На каком расстоянии (в метрах) от фонаря стоит человек ростом 2 м, если длина его тени равна 1 м, высота фонаря 9 м?

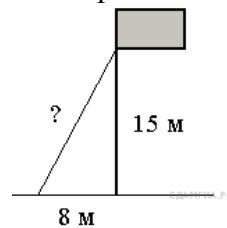


48. В 13 № 314833. От столба высотой 12 м к дому натянут провод, который крепится на высоте 4 м от земли (см. рисунок). Расстояние от

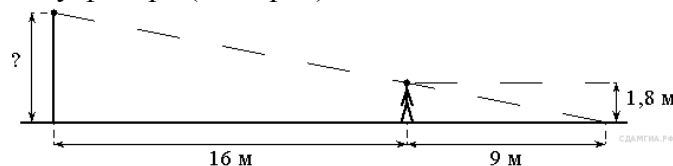
дома до столба 15 м. Вычислите длину провода.



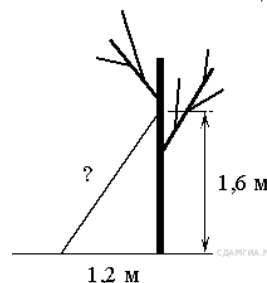
49. Точка крепления троса, удерживающего флагшток в вертикальном положении, находится на высоте 15 м от земли. Расстояние от основания флагштока до места крепления троса на земле равно 8 м. Найдите длину троса.



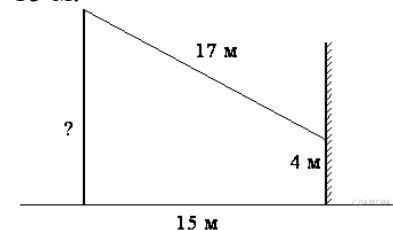
50. Человек, рост которого равен 1,8 м, стоит на расстоянии 16 м от уличного фонаря. При этом длина тени человека равна 9 м. Определите высоту фонаря (в метрах).



51. Какова длина (в метрах) лестницы, которую прислонили к дереву, если верхний её конец находится на высоте 1,6 м над землёй, а нижний отстоит от ствола дерева на 1,2 м?

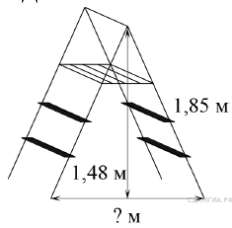


52. От столба к дому натянут провод длиной 17 м, который закреплён на стене дома на высоте 4 м от земли (см. рисунок). Вычислите высоту столба, если расстояние от дома до столба равно 15 м.



53. Девочка прошла от дома по направлению на запад 880 м. Затем повернула на север и прошла 900 м. После этого она повернула на восток и прошла ещё 400 м. На каком расстоянии (в метрах) от дома оказалась девочка?

55. Длина стремянки в сложенном виде равна 1,85 м, а её высота в разложенном виде составляет 1,48 м. Найдите расстояние (в метрах) между основаниями стремянки в разложенном виде.



54. Мальчик прошёл от дома по направлению на восток 400 м. Затем повернул на север и прошёл 90 м. На каком расстоянии (в метрах) от дома оказался мальчик?

56. В 13 № 316378. Длина стремянки в сложенном виде равна 1,11 м, а расстояние между её основаниями в разложенном виде составляет 0,72 м. Найдите высоту (в метрах) стремянки в разложенном виде.

